

Time: 10 Minutes	Paper Math 7 (T-1)	Total Marks: 10
5th Month, 4th Week, 3rd Day	Review Exercise 4 Q # (14 to 17)	

☆ Answer the following questions: درج ذیل سوالات کے جواب دیں۔

Q.1. Which of the following letter have. (1x2=2)

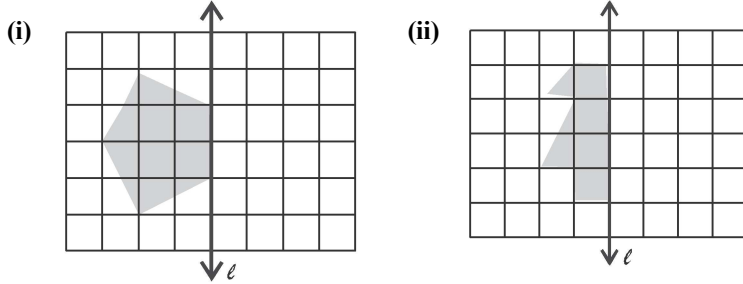
درج ذیل میں سے کون سے حروف رکھتے ہیں۔

- (a) line symmetry خط تشاکل
(b) rotational symmetry گردش تشاکل




Q.2. Complete the diagrams using the given line of reflection. (2.5x2=5)

دیئے گئے عکسی تشاکل کا استعمال کرتے ہوئے اشکال کو مکمل کریں۔



Q.3. Find the order of rotational symmetry and the centre of rotation of the given shape. (1x3=3)

دی گئی شکل کا گردش تشاکل کا درجہ اور گردش مرکز معلوم کریں۔



Time: 10 Minutes	Paper Math 7 (T-3)	Total Marks: 10
5th Month, 4th Week, 3rd Day	Review Exercise 4	

☆ Answer the following questions: درج ذیل سوالات کے جواب دیں۔

Q.1. Which of the following letter have. (1x2=2)

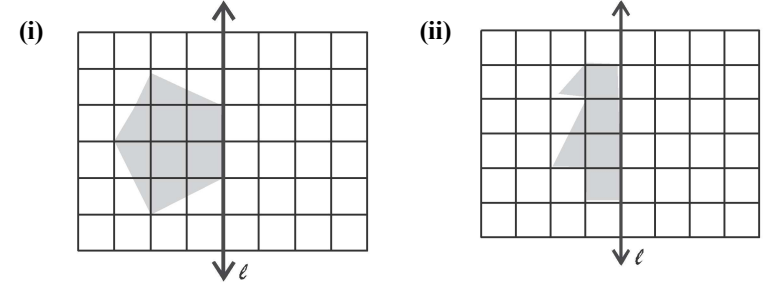
درج ذیل میں سے کون سے حروف رکھتے ہیں۔

- (a) line symmetry خط تشاکل
(b) rotational symmetry گردش تشاکل



Q.2. Complete the diagrams using the given line of reflection. (2.5x2=5)

دیئے گئے عکسی تشاکل کا استعمال کرتے ہوئے اشکال کو مکمل کریں۔



Q.3. Find the order of rotational symmetry and the centre of rotation of the given shape. (1x3=3)

دی گئی شکل کا گردش تشاکل کا درجہ اور گردش مرکز معلوم کریں۔

